



higher education & training

Department:
Higher Education and Training
REPUBLIC OF SOUTH AFRICA

T360(A)(A2)T

NASIONALE SERTIFIKAAT

CHEMIE N5

(15040015)

2 Augustus 2018 (X-Vraestel)
09:00–12:00

Hierdie vraestel bestaan uit 7 bladsye en 'n periodieke tabel van elemente.

DEPARTEMENT VAN HOËR ONDERWYS EN OPLEIDING
REPUBLIEK VAN SUID-AFRIKA
NASIONALE SERTIFIKAAT
CHEMIE N5
TYD: 3 UUR
PUNTE: 100

INSTRUKSIES EN INLIGTING

1. Beantwoord AL die vrae.
 2. Lees AL die vrae aandagtig deur.
 3. Nommer die antwoorde volgens die nommeringstelsel wat in hierdie vraestel gebruik word.
 4. Sketse moet groot, netjies en ten volle benoem wees.
 5. Skryf netjies en leesbaar.
-

VRAAG 1

- 1.1 'n Versadigde koolwaterstof met vier koolstofatome het betrekking:
- 1.1.1 Skryf die molekulêre samestelling van die verbinding neer. (1)
 - 1.1.2 Wat is die homoloë reeks van die verbinding? (1)
 - 1.1.3 Verduidelik waarom die verbinding in heksaan meer oplosbaar is as in water. (2)
 - 1.1.4 Teken die struktuur van TWEE moontlike strukturele isomere en benoem elk. (4)
 - 1.1.5 Omskryf die term *isomeer*. (2)
- 1.2 Wanneer chloor met propaan reageer, vind 'n homolitiese splitsing van die band tussen die chloor-atome plaas.
- 1.2.1 Waarna verwys die term *homolitiese* splitsing (homolytic splitting)? (2)
 - 1.2.2 Noem die produkte wat deur die homolitiese splitsing van die halogeenmolekules gevorm word. (1)
 - 1.2.3 Gebruik die hibridiseringsteorie om die orbitale oorvleueling wat in 'n propaanmolekule plaasvind te verduidelik. (3)
 - 1.2.4 Skryf 'n gebalanseerde vergelyking vir die reaksie neer. (4)
- 1.3 Nukleofiele is ryk aan elektrone en elektrofile is arm aan elektrone.
- 1.3.1 Watter van die volgende speserye ('spices') word as nukleofiele geklassifiseer? Kies die korrekte antwoord en skryf slegs die letter langs die vraagnommer in die ANTWOORDBOEK neer.
 - A karbanioon
 - B ammonium-ioon
 - C radikale
 - D hidroksiel-ioon(3)
 - 1.3.2 Omskryf 'n *elektrofiel*. (2)

[25]

VRAAG 2

- 2.1
- $$\begin{array}{c} \text{CH}_3 \\ | \\ \text{CH}_3 - \text{C} = \text{CH} - \text{CH}_3 \end{array}$$
- 2.1.1 Wat is die algemene formule van die verbinding? (1)
- 2.1.2 Is die verbinding polêr of niepolêr? (1)
- 2.1.3 Noem die hoofproduk wat gevorm word wanneer hierdie verbinding met chloorwaterstof in die teenwoordigheid van water reageer. (3)
- 2.1.4 Teken die struktuur van 'n ondergeskikte produk van die reaksie wat in VRAAG 2.1.3 hier bo genoem is. (3)
- 2.1.5 Verskaf *Markovnikov* se reël. (2)
- 2.2 'n Eliminasiereaksie word gebruik om 'n alkeen uit bromo-3 metielbutaan te berei.
- 2.2.1 Noem die reagense wat vir die reagense gebruik word.
- 2.2.2 Verskaf *Zaitsev* se reël.
- 2.2.3 Pas *Zaitsev* se reël toe en noem die hoof- en ondergeskikte produkte wat uit die reaksie gevorm word. (3 × 2) (6)
- 2.3 'n Gekonjugeerde polieen met VYF koolstofatome het betrekking:
- 2.3.1 Teken die struktuur van die gekonjugeerde polieen. (3)
- 2.3.2 Skryf die IUSTC-naam (IUPAC) van die verbinding neer. (2)
- 2.4 Skryf 'n gebelanseerde reaksievergelyking vir die volledige verbranding van 2-butyn in suurstof neer. (4)
- [25]**

VRAAG 3

- 3.1 Alkohole is verbindinge wat oor 'n hidroksielgroep beskik wat met versadigde sp^3 -verbasterde koolstofatome verbind is.
- 3.1.1 Verduidelik kortliks waarom butaan 'n baie laer kookpunt het as butanol. (2)
- 3.1.2 Skryf 'n reaksievergelyking vir die dissosiasie van metanol in water. (3)
- 3.1.3 Skryf die K_a -uitdrukking vir die reaksie. (2)
- 3.1.4 Sal die K_a -uitdrukking groot of klein wees? Verduidelik jou antwoord. (2)
- 3.2 Voltooi en balanseer die volgende vergelykings wat as bronne van eenvoudige alkohole optree:
- 3.2.1
$$\text{CH}_2 = \text{CH}_2 \xrightarrow[\text{H}_2\text{O}]{\text{Cl}_2}$$
- 3.2.2
$$\text{CO(g)} + \text{H}_2\text{(g)} \xrightarrow[400\text{ }^\circ\text{C}]{\text{ZnO}}$$
 (2 × 3) (6)
- 3.3 
- 3.3.1 Skryf die IUSTC-naam van die verbinding neer. (2)
- 3.3.2 Skryf die algemene formule neer waaraan die verbinding behoort. (1)
- 3.3.3 Teken en noem die produk wat gevorm word wanneer die verbinding met metilmagnesiumbromied reageer. (3)
- 3.3.4 Gee die naam van 'n reagens wat gebruik word om die reaksie in VRAAG 3.3.3 hier bo te verkry. (1)
- 3.3.5 Klassifiseer die produk wat as primêre, sekondêre en tersiêre alkohol verkry word. (1)
- 3.4 Teken die sktruktuur van asetieldehid. (2)

[25]

VRAAG 4

4.1 Gee EEN woord/term vir elk van die volgende beskrywings. Skryf slegs die woord/term langs die vraagnommer (4.1.1–4.1.10) in die ANTWOORDBOEK neer.

4.1.1 'n Alkohol wat gebruik word om oktielbutanoaat te berei.

4.1.2 Dit word gebruik om vir aldehyede te toets.

4.1.3 'n Amied wat 'n hoof afvalproduk in uriene is.

4.1.4 Karboksielsuur wat gebruik word om propielmetanoaat te berei.

4.1.5 Algemene formule vir esters.

4.1.6 Algemene naam vir etanoësuur.

4.1.7 Die eerste lid van die funksionele aldehydegroep.

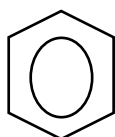
4.1.8 'n Algemene naam vir 'n aromatiese amien.

4.1.9 C_2H_5ON

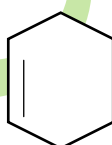
4.1.10 Die produk wat gevorm word wanneer ammoniak met metanol reageer.

(10 × 1) (10)

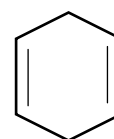
4.2 Beskou die volgende verbindings:



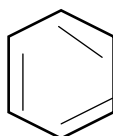
A



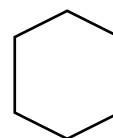
B



C



D



E

4.2.1 Skryf die name van verbindings A, B, C en E neer. (4)

4.2.2 Watter verbindings word as aromaties geklassifiseer? (2)

4.2.3 Tot watter homoloë reeks behoort verbinding B? (2)

4.2.4 Watter verbinding kan gebruik word om bensoësuur te berei? (2)

4.3 Skryf 'n gebalanseerde vergelyking neer vir die reaksie van metanol met metielamien.

(5)

Noem die produkte wat verkry word.

[25]**TOTAAL: 100**

PERIODIEKE TABEL

THE PERIODIC TABLE OF ELEMENTS
DIE PERIODIEKE TABEL VAN ELEMENTE

1 (I) 2 (II) 3 4 5 6 7 8 9 10 11 12 13 (III) 14 (IV) 15 (V) 16 (VI) 17 (VII) 18 (VIII)

1 1 H	2 4 He	3 9 Li	4 12 Be	5 19 Na	6 20 Mg	7 23 Al	8 24 Si	9 27 P	10 28 S	11 31 Cl	12 32 Ar
13 81 Tl	14 82 Pb	15 83 Bi	16 84 Po	17 85 At	18 86 Rn	19 87 Fr	20 88 Ra	21 89 Ac	22 137 Ba	23 138 La	24 139 Ce

KEY / SLEUTEL

Atomic number
Atoomgetal



Electronegativity
Elektronegatiwiteit

Approximate relative atomic mass
Benaderde relatiewe atoommassa

58 Ce	59 Pr	60 Nd	61 Pm	62 Sm	63 Eu	64 Gd	65 Tb	66 Dy	67 Ho	68 Er	69 Tm	70 Yb	71 Lu
90 Th	91 Pa	92 U	93 Np	94 Pu	95 Am	96 Cm	97 Bk	98 Cf	99 Es	100 Fm	101 Md	102 No	103 Lr